

Муниципальный этап
Всероссийской олимпиады школьников по истории 2025-2026 учебного года
8 класс

Максимальная оценка – 100 баллов

Время на подготовку – 3 академических часа (180 мин)

1	2	3	4	5	6	7	8	9	всего
8	10	9	20	10	6	10	7	20	100

Задание I. Выберите все верные ответы в каждом задании, свой ответ запишите в таблицу.
(По 2 балла за каждый правильный ответ; максимальный балл – 8 баллов)

1. Выберите из предложенного перечня города, в которых были построены Софийские соборы:

- А) Киев;
- Б) Новгород;
- В) Стамбул;
- Г) Владимир;
- Д) Полоцк;
- Е) Тобольск;

2. Выберите всех князей, которые получали от ханов Золотой Орды ярлык на великое княжение:

- А) Александр Ярославович;
- Б) Даниил Александрович Московский;
- В) Юрий Даниилович Московский;
- Г) Александр Михайлович Тверской;
- Д) Иван Данилович Калита;
- Е) Андрей Ярославович.

3. Какие правители России были избраны на Земском соборе?

- А) Борис Годунов;
- Б) Федор Годунов;
- В) Лжедмитрий I;
- Г) Лжедмитрий II;
- Д) Михаил Романов;
- Е) Федор III Романов.

4. Выберите всех архитекторов:

- А) Яков Брюс;
- Б) Франц Лефорт;
- В) Доменико Трезини;
- Г) Георг Маттарнови;
- Д) Иван Никитин;
- Е) Бартоломео Растрелли.

Задание II. Изучите представленные ряды, определите и напишите, по какому принципу выстроен каждый ряд. (до 2 баллов за каждый ряд, в зависимости от точности и полноты ответа, 1 балл – если ответ неполный, максимальный балл за задание – 10 баллов)

2.1. 1408, 1494, 1503, 1508, 1522, 1537, 1570.

2.2. Бой в устье Невы, Гангутское сражение, Сражение при Гренгаме, Эзельское сражение.

2.3. Пушкاري, стрельцы, рейтары, драгуны, городовые казаки.

2.4. Э.И. Бирон, А.Г. Разумовский, Е.Р. Воронцова, Г.А. Потемкин, Е.И. Нелидова.

2.5. Василий II Болгаробойца, Иоанн Цимисхий, Никифор II Фока, Константин VII Багрянородный, Роман II.

Задание III. Дайте краткое обоснование принципа составления рядов исторических событий, назовите один лишний элемент, свой выбор обоснуйте (Максимум 3 балла за ряд: лишний элемент -1 балл, обоснование -2 балла; максимальный балл за задание – 9 баллов)

3.1. Белый город, Китай-город, город Ярослава, Земляной город.

3.2. Андрей Курбский, Малюта Скуратов, Алексей Басманов, Афанасий Вяземский, Василий Грязной.

3.3. Никон, Адриан, Иоаким, Иона, Гермоген.

Задание IV. Вам представлен перечень из 25 терминов, относящихся к отечественной истории. Распределите их на ПЯТЬ смысловых групп по пять терминов в каждой и внесите их цифровые обозначения в таблицу. Для каждой группы уже сделано одно верное соотнесение (За каждый верный выбор – 1 балл. Максимум за задание – 20 баллов)

Термины:

- | | | |
|----------------|-----------------|------------------------|
| 1) Алтарь; | 9) Челобитный; | 17) Торговая сторона; |
| 2) Апсида; | 10) Прясло; | 18) Посадник; |
| 3) Рядович; | 11) Вече; | 19) Уроки; |
| 4) Повоз; | 12) Пушкарский; | 20) Гриди; |
| 5) Разрядный; | 13) Тысяцкий; | 21) Стрелецкий; |
| 6) Тиун; | 14) Неф; | 22) Поплужное; |
| 7) Погосты; | 15) Смерд; | 23) Огнищанин; |
| 8) Посольский; | 16) Полюдь; | 24) Софийская сторона; |
| 25) Закомары. | | |

Задание V. Установите соответствия. Запишите в таблицу выбранные цифры под соответствующими буквами. (Максимальный балл – 10 баллов)

1. Соотнесите события с золотоордынскими правителями, при которых они произошли. (по 1 баллу за каждое верное соотнесение, максимальный балл - 5 б.)

	Хан/темник Золотой Орды		Событие
1	Батый	А	Бортеневская битва
2	Тохта	Б	Неврюева рать
3	Мамай	В	Стояние на Угре
4	Тохтамыш	Г	Куликовская битва
5	Узбек	Д	Дюденева рать
		Е	Война с Тамерланом

2. Установите соответствия между монетами и их характеристиками. (по 1 баллу за каждое верное соотнесение, максимальный балл - 5 б.)

	Монета		Характеристика
1	Златник	А	Чеканка началась в 1654 году.
2	Копейка	Б	Вес 4,0—4,4 г, найдено 12 таких монет.

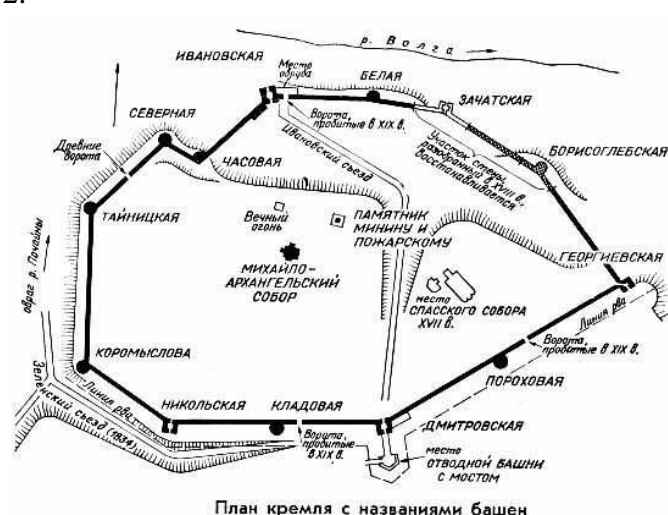
3	Медный полтинник	В	На новой монете был изображён всадник с копьём и этим она отличалась от старой московской деньги, где был изображён всадник с саблей.
4	Пуло	Г	Первоначальная масса — около 0,94 грамма, со второй половины XV века — 0,78 грамма, с 1534 года — 0,68 грамма.
5	Новгородка	Д	Русское обозначение западноевропейского серебряного талера, бывшее в употреблении до середины XVIII столетия.
		Е	Разменная монета конца XIV—XVI веков, появившаяся как подражание монетам Золотой Орды.

Задание VI. Соотнесите планы городов с эпизодами из их истории. (Максимальный балл за все задание — 6 баллов)

1.



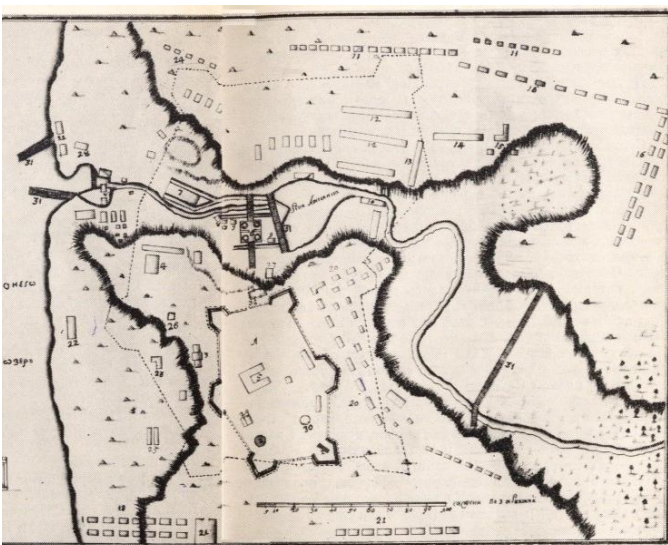
2.




3.



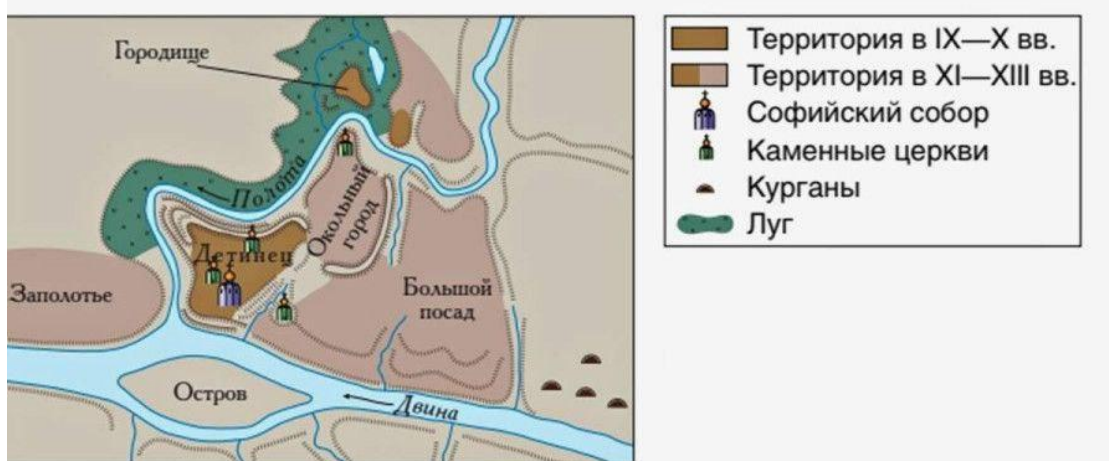
4.



5.



6.



А. В сагах есть упоминание, что когда дочь шведского короля Олафа Шётконунга, принцесса Ингигерда в 1019 году выходила замуж за новгородского князя Ярослава Мудрого, то в приданое она получила город Альдейгъюборг с прилегающими землями, которые получили с тех пор название Ингерманландии (земли Ингигерды).

Б. Наивысшего могущества достиг при Всеславе Брючиславиче 1044-1101 гг. В XVII в. дважды переходил от Великого княжества Литовского/Речи Посполитой к России. В итоге город станет частью Российской империи только в конце XVIII в.

В. Следуя мечтаниям Петра о геометрически-распланированном («регулярном») городе с центром на Васильевском острове, Леблон представил город идеальным эллипсом, расчерченным геометрической сеткой улиц-каналов, окружённым крепостными стенами и бастионами и с Петропавловской крепостью на восточной оконечности. Вначале именно Васильевский остров предполагалось сделать центром будущего города. Однако сама топография препятствовала такому решению, «город рос сам собой» в основном на Адмиралтейской стороне и со временем был принят более прагматичный план Доменико Трезини и П. М. Еропкина, но проекты Леблona оставались влиятельными вплоть до правления Екатерины Великой. План Леблona — утопический идеальный город итальянского Возрождения, и, одновременно, он отражал идеи регулярности, присущие многим проектам Королевской академии архитектуры в Париже.

Г. Крепость имела пять ворот: в западной стене — Красные (главные, выходили на Московскую дорогу), в северной стене — Пороховые или Зелёные (в северо-западном полубастионе на правом берегу пруда, рядом с ними был устроен пороховой погреб), в восточной стене — Исетские (выходили


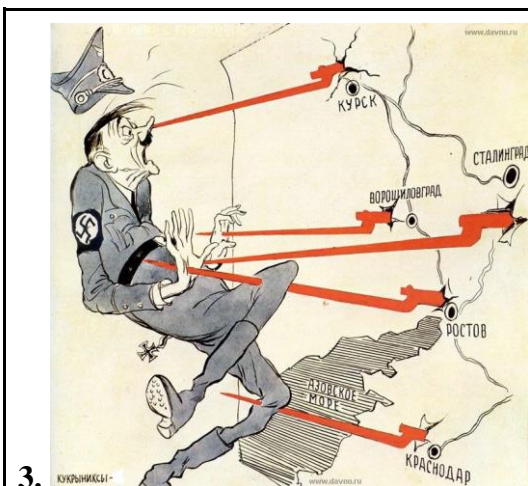
на Шарташскую дорогу), в южной стене — Уктусские (в юго-западном угловом бастионе, выходили на дорогу на Уктусский завод) и Мясницкие (в юго-западном полубастионе на правом берегу реки).

Д. В 1221 году основан Юрием Всеволодовичем как опорный пункт обороны от мокшан, эрзян, марийцев и волжских булгар. В 1392 году присоединен к владениям Москвы.

Е. В Петровской слободе в 1720 году насчитывалось более 150 жилых домов «государева строения» и свыше 450 домов «собственного строения», включая избы посадских людей и купеческие дворы. Кроме этого, в слободе были построены десятки торговых и хозяйственно-служебных помещений, две православные церкви и немецкая кирка. Слобода делилась на два района. На левом берегу Лососинки проживали чиновники, офицеры гарнизона Олонецкого батальона, служащие и купцы. Здесь же размещались здания канцелярии Олонецких горных заводов, контора оружейного завода, солдатские казармы, торговые лавки. На правом берегу Лососинки располагались дома заводских рабочих и казённые казармы-общежития.

Задание VII. Расставьте карикатуры времен Великой Отечественной войны в соответствии с хронологическим порядком. Впишите год и соответствующий ему номер карикатуры. (За каждое верное соотнесение по 2 балла; максимальный балл за полностью выполненное задание – 10 баллов)

<p>1.</p> 	<p>2.</p> 
--	---



Задание VIII. Изучите исторический источник и ответьте на вопросы (Максимальный балл за полностью выполненное задание – 7 баллов)

“7190 года апреля в 27 день по воли всеильного Бога в. г. ц. и в. кн. Федор Алексеевич, оставя земное царство, преселися в вечное небеснаго царствия блаженство. И по отшествии его государеве от сего света ко оному некончаемому блаженству, благоволением всемогущаго Бога и его святою помощию на прародительском Росийского царства престоле учинилися и державу обще восприяли братия его государевы, в. г. ц. и в. кн. Иоанн Алексеевич, Петр Алексеевич.

И советовав они, великие государи, с <...> Наталиєю Кириловною, и с своими государскими тетками и с сестрами, з благородными государынями царевнами, также о Святем Дусе со отцем своим и богомольцем в. г. с. Иоакимом патриархом московском и всеа Росии и со всем освященным собором, и говоря с своими государскими бояры, и с окольничими, и з думными людьми, и по челобитью их и всего Московского государства всяких чинов всенародного множества людей, изволили великого своего и преславнаго Росийского царства всяких государственных дел правление вруčiti сестре своей, благородней <...> Софии Алексеевне, со многим прошением, для того что они, великие государи, в юных летех, а в великом их государстве долженствует ко всякому устройению многое правление. А ея, великую государыню, благоволила Божия Премудрость упрямудрити паче инех, и кроме ее правити Росийское царствие никому невозможно.”<...>

8.1 В каком году написано этот документ? (2 б.) События какого года описываются в документе?

8.2 Как расшифровывается сокращение “в. г. ц. и в. кн.”? (2 б.)

8.3 Выберите все верные утверждения: (3 б.)

А) Петр Алексеевич был старше Иоанна на 5 лет, из-за чего считался основным кандидатом на престол.

Б) Патриарх Иоаким был последовательным сторонником Софьи и клана Милославских.

В) Согласно документу после смерти Федора Алексеевича все представители царской семьи поддержали Софью Алексеевну.

Г) Вскоре после описываемых в документе событий в столице случится восстание служилых людей по прибору.

Д) Данный документ отражает версию событий, написанную в интересах Петра и клана Нарышкиных.

Е) Описанный в документе политический режим сохранялся на протяжении 7-ми лет.

Задание XI. Мини-эссе (20 баллов)

Ваша задача выбрать одну из предложенных тем и написать мини-эссе по алгоритму.

Мини-эссе - это маленькое сочинение, где ты рассуждаешь над историческим высказыванием. У него есть четкая структура: **введение, понимание высказывания, основная часть и вывод.**

1. Введение

Во вступлении нужно объяснить, **почему ты выбрал эту тему.** Напиши, почему она показалась тебе важной или интересной. Зачем необходимо исследовать эту тему?

Оценивание: 2 балла - объяснение интересное и оригинальное; 1 балл - формальное, просто несколько предложений; 0 баллов - одна короткая фраза.

2. Понимание высказывания

Здесь нужно объяснить, о чем говорит автор. Сначала объясни своими словами общий смысл темы эссе, потом выдели 2-3 главные мысли (авторские утверждения).

Оценивание: 3 балла - правильно понял общий смысл и выделил 2 корректных утверждения; 2 балла - есть 1 ошибка; 1 балл - 2 ошибки.

3. Основная часть

Теперь самое главное - **аргументы** и контраргументы. Аргументы - это факты, которые подтверждают одно из авторских утверждений. Контраргументы - это факты, которые опровергают одно из авторских утверждений.

Тебе нужно подобрать и записать не менее ТРЕХ аргументов и/или контраргументов сначала к первому утверждению, а затем ко второму. Каждый аргумент/контраргумент поясни: корректно опиши факт и объясни, каким образом он связан с темой.

Оценивание: Всего 12 баллов - по 2 балла за каждый аргумент/контраргумент.

4. Вывод

В конце нужно подвести итог: получилось ли у тебя доказать точку зрения автора темы? Или все не так просто?

Оценивание: 3 балла — четкое мнение + сильный аргумент; 2 балла - только мнение; 1 балл - слишком общий вывод.

Темы мини эссе:

1. «Придя к власти ценой жизни своего брата, Владимир (I) оказался перед проблемами, требовавшими немедленного решения... Русь, доведенная до крайности политикой Святослава Игоревича, переживала трудные времена. Становилась очевидной необходимость кардинальных изменений. Главная заслуга Владимира и состоит в том, что осознав эту необходимость, он решительно взялся за перестройку общественной жизни страны» (М.Ю. Брайчевский)

2. «Калита умел воспользоваться обстоятельствами, тем, что приготовлено было для Москвы Даниилом и Юрием, дал современникам почувствовать первые добрые следствия единовластия и потому перешел в потомство с именем первого собирателя русской земли» (С.М. Соловьев).
3. «Ни пресечение династии, ни появление самозванца не могли бы сами по себе послужить достаточными причинами Смуты; были какие-либо другие условия, которые сообщили этим событиям такую разрушительную силу. Этих настоящих причин Смуты надобно искать под внешними поводами, ее вызвавшими» (В.О. Ключевский).
4. «Реформы Петра по своему существу и результатам не были переворотом; Пётр не был царём-революционером, как его иногда любили называть. Прежде всего, деятельность Петра не была переворотом политическим. ...Государственное устройство осталось прежним» (С.Ф. Платонов).
5. «Те, кто из западных столиц перед войной вдохновлял "восточную ориентацию" агрессии нацизма, оказались вынужденными потом, в ходе войны, благословлять Советский Союз, который сломил основную военную мощь нацизма, остановил его движение к мировой гегемонии, внес решающий вклад в полное сокрушение гитлеровского рейха» (Д.М. Проэктор).